



CHE CITTÀ SONO?
SCRIVI LA RISPOSTA SOTTO ALLE FOTOGRAFIE





QUALE DI QUESTE DUE CITTÀ
SI TROVA PIÙ A OVEST?



CHE CITTÀ SONO?
SCRIVI LA RISPOSTA SOTTO ALLE FOTOGRAFIE





QUALE DI QUESTE DUE CITTÀ
SI TROVA PIÙ A OVEST?



CHE CITTÀ SONO?
SCRIVI LA RISPOSTA SOTTO ALLE FOTOGRAFIE





QUALE DI QUESTE DUE CITTÀ
SI TROVA PIÙ A EST?



CHE CITTÀ SONO?
SCRIVI LA RISPOSTA SOTTO ALLE FOTOGRAFIE





QUALE DI QUESTE DUE CITTÀ
SI TROVA PIÙ A EST?



**CHE CITTÀ SONO?
SCRIVI LA RISPOSTA SOTTO ALLE FOTOGRAFIE**





**QUALE DI QUESTE DUE CITTÀ
SI TROVA PIÙ A OVEST?**



CHE CITTÀ SONO?
SCRIVI LA RISPOSTA SOTTO ALLE FOTOGRAFIE





QUALE DI QUESTE DUE CITTÀ
SI TROVA PIÙ A EST?



CHE CITTÀ SONO?
SCRIVI LA RISPOSTA SOTTO ALLE FOTOGRAFIE





QUALE DI QUESTE DUE CITTÀ
SI TROVA PIÙ A SUD?



CHE CITTÀ SONO?
SCRIVI LA RISPOSTA SOTTO ALLE FOTOGRAFIE





QUALE DI QUESTE DUE CITTÀ
SI TROVA PIÙ A SUD?



CHE CITTÀ SONO?
SCRIVI LA RISPOSTA SOTTO ALLE FOTOGRAFIE





QUALE DI QUESTE DUE CITTÀ
SI TROVA PIÙ A EST?



**CHE CITTÀ SONO?
SCRIVI LA RISPOSTA SOTTO ALLE FOTOGRAFIE**





**QUALE DI QUESTE DUE CITTÀ
SI TROVA PIÙ A OVEST?**



CHE CITTÀ SONO?
SCRIVI LA RISPOSTA SOTTO ALLE FOTOGRAFIE





QUALE DI QUESTE DUE CITTÀ
SI TROVA PIÙ A OVEST?



CHE CITTÀ SONO?
SCRIVI LA RISPOSTA SOTTO ALLE FOTOGRAFIE





QUALE DI QUESTE DUE CITTÀ
SI TROVA PIÙ A EST?



CHE CITTÀ SONO?
SCRIVI LA RISPOSTA SOTTO ALLE FOTOGRAFIE



QUALE DI QUESTE DUE CITTÀ
SI TROVA PIÙ A EST?



CHE CITTÀ SONO?
SCRIVI LA RISPOSTA SOTTO ALLE FOTOGRAFIE



QUALE DI QUESTE DUE CITTÀ
SI TROVA PIÙ A EST?

